



INVESTICE DO ROZVOJE VZDĚLÁVÁNÍ

Název vzdělávacího materiálu:	Migrace
Číslo vzdělávacího materiálu:	VY_32_INOVACE_Z.1.11
Autor vzdělávacího materiálu:	PaedDr. Alena Vondráčková
Období, ve kterém byl vzdělávací materiál vytvořen:	1. pololetí školního roku 2013/2014
Vzdělávací oblast:	Člověk a společnost
Vzdělávací obor:	Geografie
Vzdělávací předmět:	Zeměpis
Tematická oblast:	Obyvatelstvo a sídla
Ročník, pro který je vzdělávací materiál určen:	4. ročník vyššího gymnázia
Anotace:	Materiál slouží pro procvičení látky prezentací Migrace
Citace použitých zdrojů:	Mirvald, Stanislav a kol. Geografie – socioekonomická část. SPN – pedagogické nakladatelství a. s., 1998. ISBN 80-7235-008-0. s. 39 - 41 Bičík, Ivan a kol. Příroda a lidé Země. Nakladatelství České geografické společnosti s. r. o. Praha, 2004. s. 84 – 94 Hanus Martin a kol. Školní atlas dnešního světa. 1. vydání. TERRA, s.r.o. a TERRA – KLUB o. p. s., 2011. ISBN 978-80-902282-6-9 http://gis.zcu.cz/studium/dbg2/Materialy/html/ch15.html http://www.lekari-bez-hranic.cz/cz/aktuality/vid/2011/nejvetsi-uprchlicky-tabor-na-svete-je-plny.php http://www.novinky.cz/cestovani/308399-nejdepresivnejsi-mesto-sveta-uprchlicky-kemp-zaatari.html http://blogs.wsj.com/photojournal/2013/09/03/worlds-largest-refugee-camps/ http://www.nationmaster.com/graph/peo_nob_pri_lau-people-nobel-prize-laureates
Vzdělávací materiál vytvořen v rámci projektu Sportovní gymnázium - škola 21. století	

Pracovní list

Migrace

- 1) Který z následujících jevů je označován jako suburbanizace:
 - a) pohyb obyvatelstva přes hranice určité administrativní jednotky
 - b) pohyb obyvatelstva z venkova do měst
 - c) pohyb obyvatelstva, při kterém se lidé stěhují z měst do okrajových příměstských oblastí
 - d) seskupení sídel kolem velkoměstského jádra
- 2) Ve které z následujících skupin lze všechny státy charakterizovat mírou urbanizace nad 80%.
 - a) Česká republika, Republika Jižní Afrika, Mali, Indonésie
 - b) Saúdská Arábie, Austrálie, Argentina, Německo
 - c) Nový Zéland, Indonésie, Somálsko, Španělsko
 - d) Francie, Malajsie, Rusko, Čína
- 3) Popiš hlavní směry současné mezinárodní migrace a uveď hlavní příčiny.
- 4) Uveď příklady migrace z Čech v letech:
 - a) na začátku 20. století
 - b) v roce 1945
 - c) po roce 1948
 - d) po roce 1968
- 5) Ve Školním atlase dnešního světa najdi v mapách na str. 47:
 - a) hlavní migrační proudy v historii
 - b) hlavní cílové oblasti současnosti
- 6) V Školním atlase dnešního světa najdi v mapách na str. 46 :
 - a) státy s podílem uprchlíků vyšší než 50%
 - b) státy s podílem azylantů vyšším než 20%
- 7) Zjisti podrobnosti o největších uprchlických táborech.

Pracovní list


























Migrace

8) Zjisti podrobnosti o nositelích Nobelových cen.

Porovnej počet Nobelových cen na 10 miliónů obyvatel v USA a ve zbytku světa.

Nositelé Nobelových cen podle států v letech 1901 až 2002

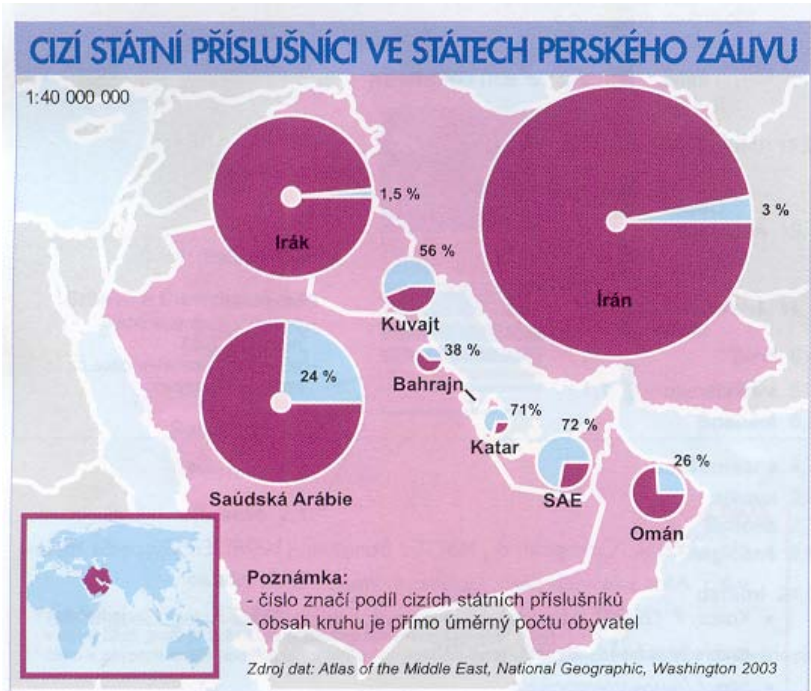
Showing latest available data.

Rank	Countries	Amount
# 1	 United States:	270
# 2	 United Kingdom:	100
# 3	 Germany:	77
# 4	 France:	49
# 5	 Sweden:	30
# 6	 Switzerland:	22
# 7	 Netherlands:	15
# 8	 Italy:	14
# 9	 Denmark:	13
# 10	 Japan:	12
# 11	 Austria:	11
# 12	 Canada:	10
# 13	 Belgium:	9
# 14	 Norway:	8
= 15	 Australia:	6
= 15	 Spain:	6
= 17	 Poland:	5
= 17	 Ireland:	5
# 19	 Hungary:	3
= 20	 Portugal:	2
= 20	 Finland:	2
= 20	 Mexico:	2
= 20	 Greece:	2
= 20	 China:	2
= 20	 Czech Republic:	2

Pracovní list

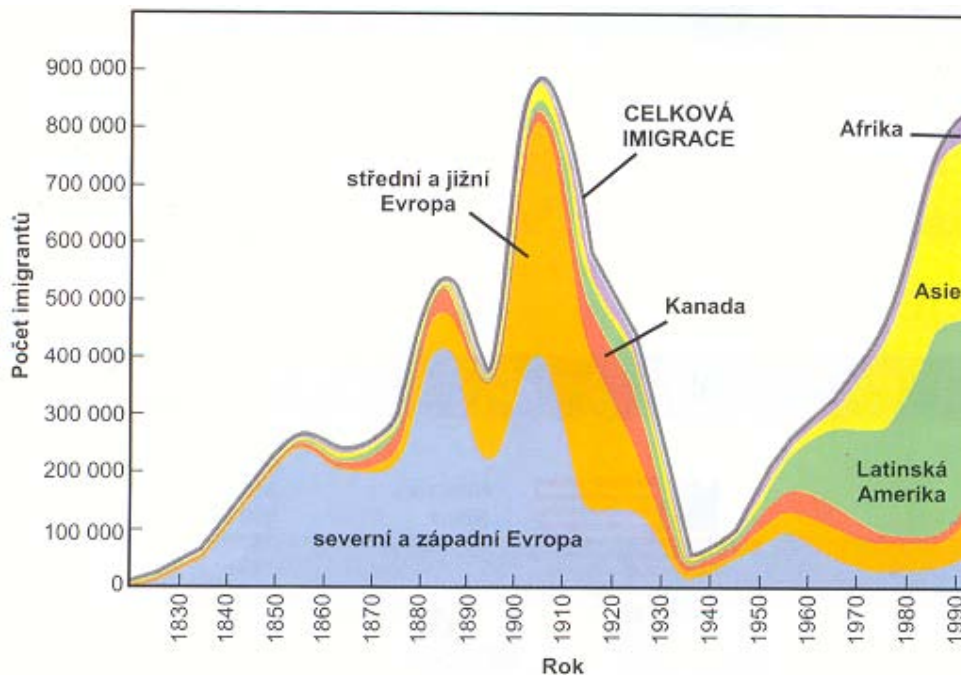
Migrace

9) Vyber hlavní cílové státy migrace v Perském zálivu. Které státy budou naopak hlavní zdrojové?



10) Jak se změnila struktura imigrace do USA v letech 1830 – 1990?

Migrace do USA v letech 1830 - 1990



Pracovní list

Migrace

Řešení:

1) c

2) b

3) např. z východní Evropy do západní Evropy, z Afriky do Evropy, z Latinské Ameriky do USA, z Asie do Evropy a do Severní Ameriky, do zemí Perského zálivu bohatých na ropu – ekonomické příčiny

z Kuby do USA – politické příčiny – kubánský režim

v rámci Afriky – ze Somálska do Keni, z Afghánistánu do Pákistánu a dalších zemí atd. válka, taliban

4) a) do Ameriky – ekonomická

b) odsun Němců (podle zplnomocnění pro odsun, celkem 2 170 598)

c) emigrace do USA, Austrálie, Jižní Afriky, na Nový Zéland - politické příčiny

d) emigrace do západní Evropy (Německa, Rakouska, Nizozemí, Velké Británie a USA a Kanady) - politické příčiny

5) a) osídlování Ameriky, Austrálie; kolonizace Afriky

osídlování Sibiře a střední Asie Rusy

emigrace Číňanů do JV Asie

emigrace Indů do jižní Afriky

b) Severní Amerika, Austrálie, země Perského zálivu, západní Evropa, země Guinejského zálivu

6) a) Afghánistán, Irák, Somálsko, Libérie

b) Sýrie, Jordánsko, Čad; v Evropě nad 5‰ – Německo, Dánsko, Švédsko, Norsko

Pracovní list

Migrace

- 7) **Tábory Dagahaley, Hagadera a Ifo dohromady tvoří největší uprchlický tábor na světě. Původně postavené pro 90 000 mužů, žen a dětí prchajících před válkou v Somálsku dnes hostí kolem 370 000 lidí a stovky dalších přicházejí každý den.** Keňa 18.07.2011

Syrský uprchlický tábor Zaatari v Jordánsku je 3. největší. V současnosti je domovem 160 tisíc lidí, ale číslo rapidně stoupá. Vždyť v posledních dnech sem do Jordánska doráží ze sousední Sýrie až 6000 lidí denně. pondělí 22. července 2013



Al Zaatri, Jordan

Dále: 2. Dollo Ado, Ethiopia; 4. Kakuma, Kenya; 5. Jabalia, Gaza; 6. Mbera, Mauritania; 7. Yida, South Sudan; 8. Nakivale, Uganda; 9. Nyarugusu, Tanzania; 10. Tamil Nadu state, India

Pracovní list

Migrace



8)

Stát	Počet obyvatel	Počet nositelů Nobelových cen	Počet nositelů N. c. na 10 mil. o.
USA	300 miliónů	260	8,6
Velká Británie	60 miliónů	100	16,6
Německo	80 miliónů	77	9,6
Francie	60 miliónů	49	8,1
Švédsko	9 miliónů	30	33
Česká republika	10 miliónů	2	2

Pracovní list

Migrace

9) Saúdská Arábie, Kuvajt, SAE, Omán, Katar, Bahrajn

zdrojové: Jemen, Irák, východní Afrika

10) v 19.století a začátkem 20.století převažovali Evropané – až 800 000 ročně

konec 20.století – většinu tvoří Jihoameričané a Asiaté